

Welcher Buchstabe fehlt in den Wörtern? Klicke ihn unten an!

M_m_

Om_

der Maurer der Architekt der Akrobat

der Anstreicher der Ansager der Astronaut

- Lesen- und Schreiblehrgang
- Lesen 1
- Lesen 2
- Präpositionen
- Wortarten

- bis 10
- bis 20
- bis 100
- Geometrie
- Sachrechnen
- Logik und Wahrnehmung

Deutsch ▶

Ende

Mathematik ▶





Lese- und Schreiblehrgang



Lesen 1



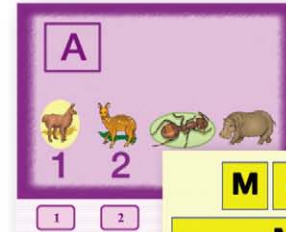
Lesen 2



Präpositionen



Wortarten



- ▶ Inhalt Mathematik
- ▶ Einmaleins-Info
- ▶ Kopfrechen-Info

+ - bis 10 

+ - bis 20 

+ - · ÷ bis 100 

Geometrie 

Sachrechnen 

Logik und
Wahrnehmung 



Wie viele sind es?
Klicke auf das richtige Ergebnis!



1 2 3 4 5 6 7 8 9 10

Mengenerfassung

Da kommt nur weiter, wenn du die richtige Lösung antickst!

Startkarte



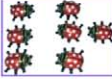
4 + 5 =



Addition und Subtraktion im Zahlenraum bis 10

1 1 2 2 3 3 4 4 5 5 6 6 7 7 8 8 9 9 10 10

+
-



100000

Kopfrechen bis 10

Ich kaufe:



3 Euro

Ich gebe:



10 Euro

Wie viel Geld bekommst du zurück?
Klicke die richtige Zahl an!

1 2 3 4 5 6 7 8 9 10

Rechnen mit Geld

Wie viele fehlen? Klicke auf das richtige Ergebnis!



4 + _ = 8

1 2 3 4 5 6 7 8 9 10

Zahlen zerlegen



Puzzle Addition - Subtraktion



8 + 8 = 16



Rechnen mit Pinguinen

kleiner als gleich größer als

2 < 5 2 = 2 4 > 3

< = >



16 17 18 19 20

Mengenfassung

1 2 3 4 5 6 7 8 9 10
11 12 13 14 15 16 17 18 19 20

Zahldarstellung

Klicke auf das richtige Punktbild!

Wendekarten

Kleiner als - gleich - größer als

5 ? 11

< = >

9 + _ = 12

Zahlen zerlegen

Addition und Subtraktion im Zahlenraum bis 20

7 6 5 8

Addition und Subtraktion im Zahlenraum bis 20

Die Hälfte von 6 ist:

1 2 3 4 5 6 7 8 9 10
11 12 13 14 15 16 17 18 19 20

Zahlen halbieren

Kopfrechen bis 20

Kopfrechen bis 20

8 + 6 = 14

Rechnen mit Pinguinen

Puzzle Addition - Subtraktion

Puzzle Addition - Subtraktion

Zahlenmauern

Zahlenmauern

Bestellung

3 Euro 4 Euro 7 Euro 1 Euro 1 Euro

Wie viel Euro kostet es zusammen?

Rechnen mit Geld





Wie viele sind es?
Klicke auf das richtige Ergebnis!

1 2 3 4 5 6 7 8 9 10

Mengenerfassung


Mengen bis 10 - 1

Mengen bis 10 - 2

Mengen bis 10 - 3

Mengen bis 10 - 4

Mengen bis 10 - 5



kleiner als gleich größer als

$2 < 5$ $2 = 2$ $4 > 3$

< = >

< = > 1a

< = > 1b

< = > 2a

< = > 2b

< = > 3a

< = > 3b



Ich kaufe:  Ich gebe: 

3 Euro

Wie viel Geld bekommen Sie zurück?
Klicken die richtige Zahl an!

1 2 3 4 5 6 7 8 9 10

Rechnen mit Geld

Rechnen mit Geld 1

Rechnen mit Geld 2

Einkaufen 1

Einkaufen 2

Wie viele roten? Klicken auf das richtige Ergebnis!

$4 + _ = 8$

1 2 3 4 5 6 7 8 9 10

Zahlen zerlegen

Übung 1

Übung 2

Übung 3





$$8 + 6 = 14$$



Rechnen mit Pinguinen

Addition „+“

Subtraktion „-“



Puzzle
Addition - Subtraktion


Übung „+“ 1

Übung „+“ 2

Übung „-“ 1

Übung „-“ 2





16 17 18 19 20

Mengenerfassung

Mengen bis 20 - 1

Mengen bis 20 - 2

Mengen bis 20 - 3

Mengen bis 20 - 4

Mengen bis 20 - 5

Mengen bis 20 - 6

Mengen bis 20 - 7



1	2	3	4	5	6	7	8	9	10
11	12	13	14	15	16	17	18	19	20

Zahldarstellung

Zahldarstellung - 1

Zahldarstellung - 2



Die kommt nur malen, wenn du die richtige Lösung gefunden hast!

Startkarte



$4 + 5 = 9$



Addition und Subtraktion im Zahlenraum bis 10

Addition bis 10 - 1

Subtraktion bis 10 - 1

Addition bis 10 - 2

Subtraktion bis 10 - 2

Addition bis 10 - 3

Subtraktion bis 10 - 3

Addition bis 10 - 4

Subtraktion bis 10 - 4

Addition bis 10 - 5

Subtraktion bis 10 - 5

Addition bis 10 - 6

Subtraktion bis 10 - 6

Addition bis 10 - 7

Subtraktion bis 10 - 7

Addition bis 10 - 8

Subtraktion bis 10 - 8



Es kommt ein Paket, wenn du die richtige Lösung findest!



12 - 6 =

7 6 5 8

Addition und Subtraktion im Zahlenraum bis 20

Addition ohne ZÜ - 1

Addition ohne ZÜ - 2

Addition ohne ZÜ - 3

Addition mit ZÜ - 1

Addition mit ZÜ - 2

Addition bis 20 - 1

Addition bis 20 - 2

Addition bis 20 - 3

Plus ZR 20 - 1

Plus ZR 20 - 2

Plus ZR 20 - 3

Plus ZR 20 - Perlen

Subtraktion o. ZÜ - 1

Subtraktion o. ZÜ - 2

Subtraktion o. ZÜ - 3

Subtraktion m. ZÜ - 1

Subtraktion m. ZÜ - 2

Subtraktion bis 20 - 1

Subtraktion bis 20 - 2

Subtraktion bis 20 - 3

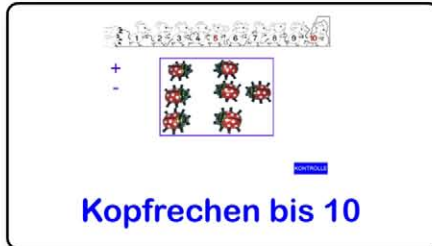
Minus ZR 20 - 1

Minus ZR 20 - 2

Minus ZR 20 - 3

Minus ZR 20 - Tiere





Kopfrechen bis 10

Mengen - 1

Mengen - 2

Mengen - 3

größer - kleiner „><“

plus - 1a

plus - 1b

plus - 1c

plus - 2a

plus - 2b

plus - 2c

minus - 1a

minus - 1b

minus - 1c

minus - 2a

minus - 2b

minus - 2c

plus-minus - 1a

plus-minus - 1b

plus-minus - 1c

plus-minus - 2a

plus-minus - 2b

plus-minus - 2c





Mengen - 1 ZR 20

Mengen - 2 ZR 20

Mengen - 3 ZR 20

plus ohne ZÜ - 1a

plus ohne ZÜ - 1b

plus ohne ZÜ - 1c

plus ohne ZÜ - 2a

plus ohne ZÜ - 2b

plus ohne ZÜ - 2c

plus - 1a

plus - 1b

plus - 1c

plus - 2a

plus - 2b

plus - 2c

plus - 3a

plus - 3b

plus - 3c

minus ohne ZÜ - 1a

minus ohne ZÜ - 1b

minus ohne ZÜ - 1c

minus ohne ZÜ - 2a

minus ohne ZÜ - 2b

minus ohne ZÜ - 2c

minus - 1a

minus - 1b

minus - 1c

minus - 2a

minus - 2b

minus - 2c


minus - 3a

minus - 3b

minus - 3c

Kopfrechen - 2





plus-minus o.ZÜ - a

plus-minus o.ZÜ - b

plus-minus o.ZÜ - c

plus-minus - 1a

plus-minus - 1b

plus-minus - 1c

plus-minus-Kerzen a

plus-minus-Kerzen b

plus-minus-Kerzen c

plus-minus-Pinguin a

plus-minus-Pinguin b

plus-minus-Pinguin c

plus-minus-Tiere a

plus-minus-Tiere b

plus-minus-Tiere c

Kopfrechen - 1



Klicke auf das richtige Punktebild!

Wendekarten

Zahlenmauern

Kleiner als - gleich - größer als

< > **=** **> <**

Wendekarten 1

Wendekarten 2

Wendekarten 3

Wendekarten 4

Wendekarten 5

Anleitung 1-2

Anleitung 3-5

Zahlenmauer 1

Zahlenmauer 2

< = > 4a

< = > 4b

< = > 5a

< = > 5b

< = > 6a

< = > 6b

< = > 7a

< = > 7b

< = > 8a

< = > 8b

< = > 9a

< = > 9b





Rechnen mit Geld

im Restaurant

Einkaufen A1

Einkaufen A2


Einkaufen A3

Einkaufen A4

Einkaufen A5

Einkaufen A6

Einkaufen A7



Zahlen zerlegen

Übung 1

Übung 2

Übung 3



1	2	3	4	5	6	7	8	9	10
11	12	13	14	15	16	17	18	19	20

Zahlen halbieren

Übung 1

Übung 2

Übung 3






$$8 + 8 = 16$$



Rechnen mit Pinguinen

Addition „+“

Subtraktion „-“



Puzzle
Addition - Subtraktion

Übung „+“ 1

Übung „+“ 2

Übung „-“ 1

Übung „-“ 2

Übung „+/-“ 1

Übung „+/-“ 2

Übung „+“ 3

Übung „+/-“ 4



Welche Zahlen aus der Hundertertafel fehlen hier?
Klicke auf die richtige Lösung!

7	2	3
11	7	13
21	22	23

1 und 12 2 und 13 1 und 11

Hundertertafel

1	2	3	4	5	6	7	8	9	10
11	12	13	14	15	16	17	18	19	20
21	22	23	24	25	26	27	28	29	30
31	32	33	34	35	36	37	38	39	40
41	42	43	44	45	46	47	48	49	50
51	52	53	54	55	56	57	58	59	60
61	62	63	64	65	66	67	68	69	70
71	72	73	74	75	76	77	78	79	80
81	82	83	84	85	86	87	88	89	90
91	92	93	94	95	96	97	98	99	100

Wenn du auf das richtige Ergebnis in der Hundertertafel klickst, erscheint auch die Zahl in einer Kiste!

36 + 8 =

Addition und Subtraktion

Suche die Zahl und klicke in der Hundertertafel auf die richtige Zahl!

25

Zahlen suchen

Wie viele Plättchen sind es?
Klicke auf die richtige Zahl in der Hundertertafel!

Zahlen finden

Welche Zahl kommt
Suche die Zahl und klicke in der Hundertertafel auf die richtige Zahl!

10, 15, 20, ...
30, 35, 40

Zahlenfolgen

Das Einmaleins mit 2
Schreibe zum Foto die passende Malaufgabe!

Malnehmen

Einmaleinsreihen



Welche Zahlen aus der Hundertertafel fehlen hier?
Klicke auf die richtige Lösung!

1	2	3
11	?	13
21	22	23

1 und 12 2 und 13 1 und 11

Hundertertafel

Übung 1

Übung 2

Übung 3

Wenn du auf das richtige Antwortstück, verwechselst noch die Zahl in eine Karte!

1	2	3	4	5	6	7	8	9	10
11	12	13	14	15	16	17	18	19	20
21	22	23	24	25	26	27	28	29	30
31	32	33	34	35	36	37	38	39	40
41	42	43	44	45	46	47	48	49	50
51	52	53	54	55	56	57	58	59	60
61	62	63	64	65	66	67	68	69	70
71	72	73	74	75	76	77	78	79	80
81	82	83	84	85	86	87	88	89	90
91	92	93	94	95	96	97	98	99	100

36 + 6 =

Addition und Subtraktion

Add „+“ „1“ ohne ZÜ

Add-Sub „1“ o ZÜ 1

Add „+“ „1“ mit ZÜ

Add-Sub „1“ o ZÜ 2

Add „+“ „10“ - 1

Add-Sub „1“ m ZÜ 1

Add „+“ „10“ - 2

Add-Sub „1“ m ZÜ 2

Sub „-“ „1“ ohne ZÜ

Sub „-“ „1“ mit ZÜ


Sub „-“ „10“ - 1

Puzzle Addition „+“

Sub „-“ „10“ - 2

Addition „+“ „€“





Zahlen suchen


suchen 1

suchen 2

suchen 3

Nachbarzahlen 1

Nachbarzahlen 2



Zahlen finden


Wie viel „Cent“

Wie viel „Euro“

Wie viel „Eier“

Wie viele Plättchen 1

Wie viele Plättchen 2



Zahlenfolgen

Zahlenfolgen 1 a

Zahlenfolgen 1 b

Zahlenfolgen 2 a

Zahlenfolgen 2 b



1x1 Info



Einführung 2

Einführung 3

Einführung 4

Einführung 5

Einführung 6

Einführung 7

Einführung 8

Einführung 9a

Einführung 9b

Einführung 10

Einführung 2-4-8

Einführung 3-6-9

Frühling 1x1 - a

Frühling 1x1 - b

1x1 - 2 - 4 - 8

Marienkäfer 2-4-8

Marienkäfer 3-6-9

Blumen 3-6-9

Schmetterlinge 7

welche 1x1 Reihe - 1

welche 1x1 Reihe - 2

welche 1x1 Reihe - 3

welche 1x1 Reihe - 4

welche 1x1 Reihe - 5

welches 1x1 Blumen

1x1 zur Seite 2



1x1 Info

Das Einmaleins mit 2
Schreibe zum Foto die passende Malaufgabe!



Einmaleinsreihen

1x1 mit 2 - Übung a

1x1 mit 2 - Übung b

1x1 mit 2 - Übung c

1x1 mit 3 - Übung a

1x1 mit 3 - Übung b

1x1 mit 3 - Übung c

1x1 mit 4 - Übung a

1x1 mit 4 - Übung b

1x1 mit 4 - Übung c

1x1 mit 5 - Übung a

1x1 mit 5 - Übung b

1x1 mit 5 - Übung c

1x1 mit 6 - Übung a

1x1 mit 6 - Übung b

1x1 mit 6 - Übung c

1x1 mit 7 - Übung a

1x1 mit 7 - Übung b

1x1 mit 7 - Übung c

1x1 mit 8 - Übung a

1x1 mit 8 - Übung b

1x1 mit 8 - Übung c

1x1 mit 9 - Übung a

1x1 mit 9 - Übung b

1x1 mit 9 - Übung c

1x1 mit 10 - Übung a

1x1 mit 10 - Übung b

1x1 mit 10 - Übung c

1x1 mit 2-4-8 Übung a

1x1 mit 2-4-8 Übung b

1x1 mit 2-4-8 Übung c

1x1 mit 3-6-9 Übung a

1x1 mit 3-6-9 Übung b

1x1 mit 3-6-9 Übung c

1x1 mit 5-10 Übung a

1x1 mit 5-10 Übung b

1x1 mit 5-10 Übung c

1x1 zur Seite 1





Wie viele Quadrate siehst du auf dieser Seite?

1 2 3 4 5 6 7 8 9 10

geometrische Formen

Dreiecke

Formen 1

Formen 2

Formen 3

Welche Abbildung ist das Spiegelbild?

1 2 3 4

spiegeln

Spiegelbild





Sachaufgaben lösen

Lies dir zu jeder Aufgabe genau den Text durch!
Bei einigen Aufgaben brauchst du vielleicht auch einen Zettel und einen Bleistift für die Rechnung!



Sachaufgaben sind doof - oder?! Na ja, es fängt gaaaanz einfach an!

Sachaufgaben



14:00 Uhr 13:00 Uhr 15:00 Uhr 12:00 Uhr

Uhrzeit

Klicke auf den richtigen Wochentag!



Montag
Dienstag
Mittwoch
Donnerstag
Freitag
Samstag
Sonntag

Welcher Wochentag ist am 10. Januar?

Kalender





Uhrzeit 1

Uhrzeit 1B

Uhrzeit 2

Uhrzeit 2B

Uhrzeit 3

Uhrzeit 3B

Uhrzeit 4

Uhrzeit 4B

Uhrzeit 5

Uhrzeit 6

Uhrzeit 7



Kalender 1

Kalender 2

Kalender 3

Kalender 4

Kalender 5

Kalender 6

Kalender 7

Kalender 8

Kalender 9

Kalender 10

Kalender 11

Kalender 12





Sachaufgaben lösen

Lies dir zu jeder Aufgabe genau den Text durch!
Bei einigen Aufgaben brauchst du vielleicht auch einen Zettel und einen Bleistift für die Rechnung!



Sachaufgaben sind doof - oder?! Na ja, es fängt gaaaanz einfach an!

Sachaufgaben

Sachaufgaben 1

Sachaufgaben 2

Sachaufgaben 3

Sachaufgaben 4

Sachaufgaben 5





Welche Farbe zeigt ... die Ampel?



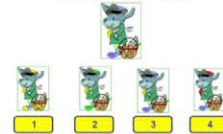
Farbe bestimmen

Du kommst nur weiter, wenn du die richtige Lösung anklickst!
Welche Farbe ist hier richtig?



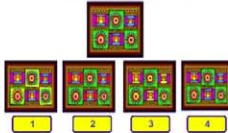
Farbe zuordnen

Du kommst nur weiter, wenn du die richtige Lösung anklickst!
Welches Bild sieht genau gleich aus?



Figuren erkennen

Du kommst nur weiter, wenn du die richtige Lösung anklickst!
Welches Bild sieht genau gleich aus?



Formen und Muster

Wie viele Tiere laufen nach links? →



rechts - links

Welches Bild passt nicht zu den anderen? Klicke es an!



Was passt nicht?





Welche Farbe zeigt ... die Ampel?



Farbe bestimmen

Farbe bestimmen 1

Farbe bestimmen 2

Du kommst nur weiter, wenn du die richtige Lösung anklickst!
Welche Farbe ist hier richtig?



Farbe zuordnen

Farbe zuordnen 1

Farbe zuordnen 2

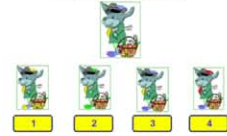
Farbe zuordnen 3

Farbe zuordnen 4

Farbe zuordnen 5

Farbe zuordnen 6

Du kommst nur weiter, wenn du die richtige Lösung anklickst!
Welches Bild sieht genau gleich aus?



Figuren erkennen

Figuren erkennen 1

Figuren erkennen 2

Figuren erkennen 3

Figuren erkennen 4

Figuren erkennen 5

Figuren erkennen 6

Figuren erkennen 7

Figuren erkennen 8





Welches Bild passt nicht zu den anderen? Klicke es an!



Was passt nicht?

Was passt nicht? 1

Was passt nicht? 2

Was passt nicht? 3

Die bekommt nur wieder, wenn die die richtige Lösung anfordert!
Welches Bild erhält genau gleiches sein?



Formen und Muster

Formen + Muster 1

Formen + Muster 2

Formen + Muster 3

Wie viele Tiere laufen nach links? ←



rechts - links

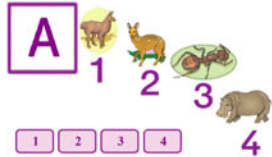
Rechts oder links? 1

Rechts oder links? 2


Rechts oder links? 3

Rechts oder links? 4






Anlaute bestimmen



Anlautwort bestimmen



Buchstaben erkennen



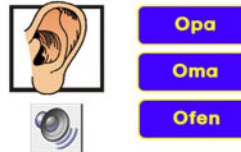
Buchstaben hören



Buchstaben verbinden



Buchstaben einsetzen



Wörter hören und lesen





A 1 2 3 4

1 2 3 4

Anlaute bestimmen

Übung 1

Übung 2

Übung 3

Übung 4

Übung 5

A

Anlautwort bestimmen

Übung 1

Übung 6

Übung 2

Übung 7

Übung 3

Übung 4

Übung 5





Aa	Bb	Cc	Dd
Kk	Ll	Mm	Nn
Uu	Vv	Ww	Xx

_ a _ a

Buchstaben einsetzen

Übung 1

Übung 7

Übung 15

Übung 23

Übung 31

Übung 2

Übung 8

Übung 16

Übung 24

Übung 3

Übung 9

Übung 17

Übung 25

Wortliste

Übung 4

Übung 10

Übung 18

Übung 26

Übung 5

Übung 11

Übung 19

Übung 27

Übung 6

Übung 12

Übung 20

Übung 28

Übung 13

Übung 21

Übung 29

Übung 14

Übung 22

Übung 30







Opa

Oma

Ofen

Wörter hören und lesen

			1	2	3
8	9	10	4	5	6
			7	8	9
13	14	15	10	11	12
			13	14	15

Welcher Buchstabe passt nicht dazu?

Buchstaben erkennen

Übung 1

Übung 7

Übung 13

Übung 1

Übung 2

Übung 8

Übung 14

Übung 2

Übung 3

Übung 9

Übung 15

Übung 3

Übung 4

Übung 10

Übung 4

Übung 5

Übung 11

Wortliste

Übung 5

Übung 6

Übung 12

Übung 6





AMS = Anfang-Mitte-Schluss

Wortliste

- | | | | | |
|---------|---------|----------|-----------|------------|
| AMS - M | AMS - L | AMS - S | AMS - Au | AMS - Pf |
| AMS - A | AMS - H | AMS - E | AMS - B | AMS - V |
| AMS - I | AMS - F | AMS - D | AMS - Sch | AMS - J |
| AMS - O | AMS - U | AMS - K | AMS - Z | gemischt 1 |
| AMS - P | AMS - R | AMS - W | AMS - Eu | gemischt 2 |
| AMS - T | AMS - N | AMS - Ei | AMS - äöü | gemischt 3 |
| | | AMS - Ch | AMS - Sp | gemischt 4 |
| | | AMS - G | AMS - St | gemischt 5 |





M a m a
Mama

Buchstaben verbinden

Übung 1

Übung 7

Übung 13

Übung 21

Übung 2

Übung 8

Übung 14

Übung 22

Übung 3

Übung 9

Übung 15

Übung 23

Übung 4

Übung 10

Übung 16

Übung 24

Übung 5

Übung 11

Übung 17

Übung 25

Übung 6

Übung 12

Übung 18

Übung 26

Übung 19

Übung 27

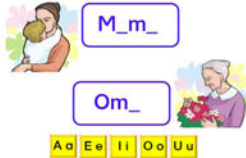
Übung 20

Übung 28

Wortliste
Übung 1-28

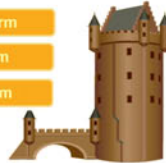
Wortliste
alphabetisch





Vokale einsetzen

Wurm
Arm
Turm



Wort-Bild-Zuordnung 1



Zitronen

Apfelsinen

Birnen

Wort-Bild-Zuordnung 2



Ad-
-der
-fer
-ele
-ler

Silben zusammenziehen

Mit seinem Rucksack
auf dem ____ fährt
der Junge Dreirad.

Rücken
Gepäckträger
Arm



Sinnertfassendes Lesen



Opa hilft Oma.

Oma hilft Mama.

Opa hat Oma im Arm.

Bild-Satz-Zuordnung





Vokale einsetzen

Übung 1

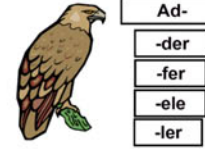
Übung 2

Übung 3

Übung 4

Übung 5

Übung 6



Silben zusammenziehen

Übung 1

Übung 2

Übung 3

Übung 4





Wurm
Arm
Turm



Wort-Bild-Zuordnung 1

Übung 1

Übung 7

Übung 13

Übung 2

Übung 8

Übung 14

Übung 3

Übung 9

Übung 15

Übung 4

Übung 10

Übung 5

Übung 11

Übung 6

Übung 12





Berufe 1

Berufe 7

Berufe 2

Gebäude 1

Berufe 3

Gebäude 2

Berufe 4

Gebäude 3

Berufe 5

Gebäude 4

Berufe 6

Haushalt 1

Haushalt 2

Kleidung

Körper 1

Körper 2

Körper 3

Möbel

Natur 1

Natur 2

Natur 3

Natur 4

Natur 5

Obst-G 1

Obst-G 2

Obst-G 3

Schule

Tiere 1

Tiere 2

Tiere 3

Tiere 4

Tiere 5

Tiername

Verkehr 1

Verkehr 2

Zootiere
Infos





Mit seinem Rucksack
auf dem _____ fährt
der Junge Dreirad.

Rücken
Gepäckträger
Arm



Sinnerfassendes Lesen

Übung 1

Übung 2

Übung 3

Übung 4

Übung 5

Übung 6



Opo holt Oma.

Oma hilft Mama.

Opo hat Oma im Arm.

Bild-Satz-Zuordnung

Übung 1

Übung 2





Der Junge trägt eine schwere Schultasche.

Bild-Satz-Zuordnung 1

Kannst du dem Foto den richtigen Satz zuordnen?

Tanja räumt die Gläser weg.

Tanja trocknet das Geschirr ab.

Tanja schüttet sich ein Glas Saft ein.

Tanja holt sich ein Glas aus dem Schrank.



Bild-Satz-Zuordnung 2

Nach welchem Beruf wird hier gefragt?
Klicke das richtige Bild an!



Fragen und Antworten



Vergnügt schaut die kleine Burg in die Welt,
wenn Gäste erscheinen, denen sie gefällt.

Lustige Reime

Lustige Reime für Erstleser



Turm
Wurm

Sturm
Turm

Reimwörter



Sätze erlesen





Der Junge trägt eine schwere Schultasche.

Bild-Satz-Zuordnung 1

Übung 1

Übung 2

Übung 3

Übung 4

Übung 5

Übung 6

Kannst du dem Foto den richtigen Satz zuordnen?



Tanja räumt die Gläser weg.

Tanja trocknet das Geschirr ab.

Tanja schüttet sich ein Glas Saft ein.

Tanja holt sich ein Glas aus dem Schrank.

Bild-Satz-Zuordnung 2

Übung 1

Übung 2

Übung 3

Übung 4

Übung 5





Vergnügt schaut die kleine Burg in die Welt,
wenn Gäste erscheinen, denen sie gefällt.

Lustige Reime

Übung 1

Übung 2

Übung 3

Lustige Reime für Erstleser



Übung 1

Übung 2

Übung 3

Übung 4



Turm
Wurm

Sturm
Turm

Reimwörter

Übung 1

Übung 2

Übung 3

Übung 4

Übung 5





Nach welchem Beruf wird hier gefragt?
Klicke das richtige Bild an!



Fragen und Antworten

Berufe 1

Reime 3

Berufe 2

Reime 4

Berufe 3

Tiere 1

Berufe 4

Tiere 2

Reime 1

Reime 2



Sätze erlesen

Übung 1

Übung 7

Übung 2

Übung 8

Übung 3

Übung 9

Übung 4

Übung 10

Übung 5

Übung 6





Wo steht die Mutter?

- Die Mutter steht neben den Betten.
- Die Mutter steht vor den Betten.
- Die Mutter steht hinter den Betten.

Präpositionen

Übung 1

Übung 7

Übung 2

Übung 8

Übung 3

Übung 9

Übung 4

Übung 5

Übung 6





Die Kinder
spielen
mit
bunten
Bauklötzen.

Adjektive



Im dämmerigen Abendlicht spiegelt sich
die Burg im Wasser des Sees.

Adjektive bestimmen

Wie viele Nomen (Namenwörter) sind in dem Satz?



TINA MÖCHTE, DASS
DIE MUTTER IHR ZUM
GEBURTSTAG
EIN NEUES KLEID KAUFTE.

1 2 3 4 5 6 7 8

Nomen bestimmen



Angst + Hase

**zusammengesetzte
Nomen**





Die Kinder
spielen
mit
bunten
Bauklötzen

Adjektive

Adjektive - Wiewörter

Wiewörter

Adjektive Vergl.-Stufe 1

Adjektive Vergl.-Stufe 2

Adjektive Vergl.-Stufe 3



Im dämmigen Abendlicht spiegelt sich
die Burg im Wasser des Sees.

Adjektive bestimmen

Adjektive bestimmen 1

Adjektive bestimmen 2

Adjektive bestimmen A1

Adjektive bestimmen A2





Wie viele Nomen (Namenwörter) sind in dem Satz?



TINA MÖCHTE, DASS
DIE MUTTER IHR ZUM
GEBURTSTAG
EIN NEUES KLEID KAUFTE.

1 2 3 4 5 6 7 8

Nomen bestimmen

Nomen - Namenwörter

Nomen einsetzen

Nomen bestimmen 1

Nomen bestimmen 2

Nomen bestimmen 3



Angst + Hase

zusammengesetzte

zusammengesetzte 1

zusammengesetzte 5

zusammengesetzte 2

zusammengesetzte 6

zusammengesetzte 3

Nomen - Adjektive

zusammengesetzte 4

lustige Nomen

